

۱. یک عدد چهاررقمی بنویسید که رقم یکان آن ۶، دهگان ۸، صدگان ۵ و هزارگان ۵ باشد.

به عدد: \_\_\_\_\_ به حروف: \_\_\_\_\_

۲. الگوی شمارش رو به عقب کامل کنید.

۴۲ و ۳۵ و ۲۸ و \_\_\_\_\_ و \_\_\_\_\_ و \_\_\_\_\_

۳. جمع و تفریق های زیر را که واحد ریال هستند به واحد تومان تبدیل کنید.

الف:  $470 - 170 = 300$  →

ب:  $4250 - 3230 = 7480$  →

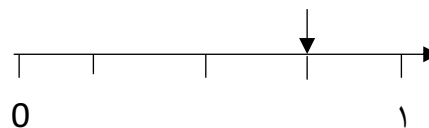
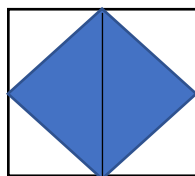
۴. جاهای خالی را کامل کنید.

ا: عدد \_\_\_\_\_ یعنی ۳ هزار تایی و ۴ ده تایی

ب: ۱۳۸ سانتی متر یعنی \_\_\_\_\_ متر و \_\_\_\_\_ سانتی متر

ج: ۶۰۰۰ متر چند کیلومتر است \_\_\_\_\_

۵. برای شکل و محور زیر کسر بنویسید.



۶. بهترین وسیله برای کشیدن دایره \_\_\_\_\_ است.

ا: گونیا  ب: پرگار  ج: نقاله  د: خط کش


۷. یک کیلومتر چند تا ۱۰۰ متر است؟

ا: ۱۰ تا  ب: ۲۰ تا  ج: ۵ تا  د: ۳۰ تا

۸. عدد های زیر را روی محور نشان دهید.

$$\frac{2}{4} \text{ واحد بعد از عدد } 3$$

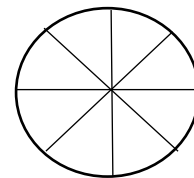
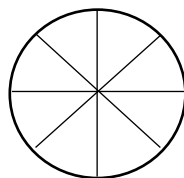
۹. با کامل کردن شکل نشان دهید که  $\frac{2}{4} = \frac{4}{8}$



۱۰. در  $\bigcirc$  علامت  $>$  یا  $<$  یا  $=$  قرار دهید.

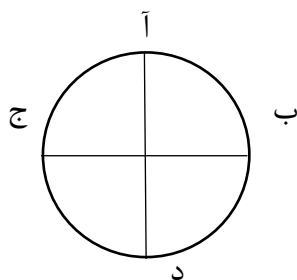
آ: ربع  $\bigcirc$  نصف

ب:  $\frac{1}{3} \bigcirc \frac{2}{6}$



ج:

۱۱. در شکل مقابل چند زاویه راست وجود دارد.

ج: ۴  $\bigcirc$ آ: ۳  $\bigcirc$ د: زاویه راست وجود ندارد.  $\bigcirc$ ب: ۸  $\bigcirc$ 

۱۲. باز شده جمع زیر را بنویسید.

$$8945 = \underline{\hspace{2cm}}$$

ارزشیابی ریاضی (نوبت اول)

به نام خدا

پایه سوم ابتدایی

دبستان سرای دانش

تاریخ ۱۴۰۱/۱۰/۱۷

۱۳. کدام ضرب الگوی شمارش را کامل می کند.

۴ و ۸ و ۱۲ و ۱۶ و ۲۰ و \_\_\_\_\_

آ:  $۶ \times ۴ = ۲۸$       ب:  $۷ \times ۴ = ۲۸$       ج:  $۵ \times ۴ = ۲۰$       د:  $۶ \times ۴ = ۲۴$

۱۴. جاهای خالی را با عدد مناسب پر کن.

آ:  $۵ \times ۲ = \bigcirc \times ۵$       ب:  $۱۸ \div ۳ = \bigcirc$       ج:  $۱۵ \div \bigcirc = ۳$       د:  $\bigcirc \times ۳ = ۲۷$

۱۵. حاصل ضرب های زیر با روش خواسته شده بدست آورید.

آ: روش جمع  $\leftarrow ۴ \times ۵ = \_\_\_\_\_\_$

ب: روش شکل  $\leftarrow ۶ \times ۳ = \_\_\_\_\_\_$

# جزوه سیتی

۱۶. تساوی زیر را روی محور نشان دهید.

$۲ \times ۴ = ۴ \times ۲$  :  $\longrightarrow$

موفق و پیروز باشید.

سال تحصیلی ۱۴۰۱-۱۴۰۲

- کلیدواژه ارزشیابی ریاضی نوبت اول (پایه سوم ابتدایی دبستان سرای دانش)

۱. به عدد: ۵۰۸۶ به حروف: پنج هزار و هشتاد و شش

۲. ۲۱ و ۱۴ و ۷

۳.

الف:  $47 - 17 = 30$

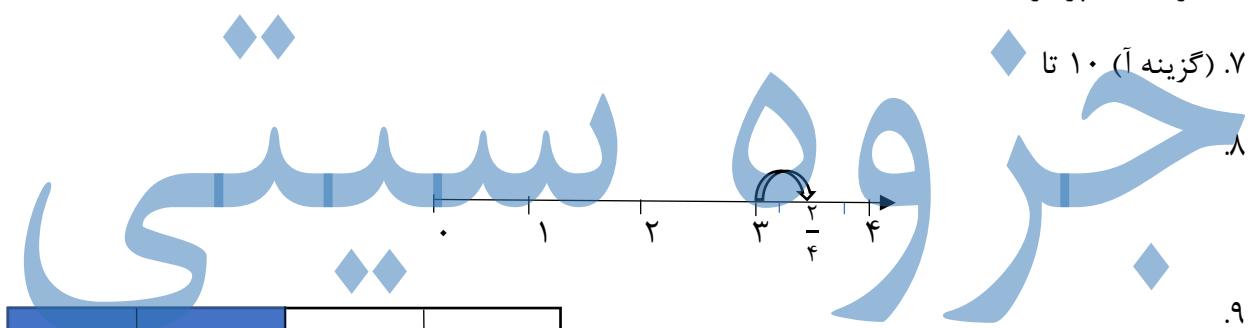
ب:  $425 + 723 = 748$

۴. آ: ۳۰۴۰ ب: ۱ متر و ۳۷ سانتی متر ج: ۶

۵. محور:  $\frac{3}{4}$  شکل:  $\frac{2}{6}$

۶. (گزینه ب) پرگار

۷. (گزینه آ) ۱۰ تا



۹.

۱۰. آ: ربع > نصف

ب:  $\frac{1}{3} > \frac{2}{6}$

ج:  $\frac{2}{8} < \frac{4}{8}$

۱۱. (گزینه ج) ۴ تا

۱۲.

جواب:  $8000 + 900 + 40 + 5$

سال تحصیلی ۱۴۰۱-۱۴۰۲

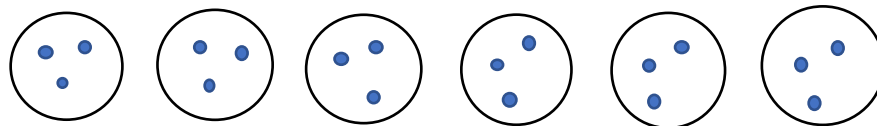
- کلیدواژه ارزشیابی ریاضی نوبت اول (پایه سوم ابتدایی دبستان سرای دانش)

۱۳. (گزینه د)  $6 \times 4 = 24$

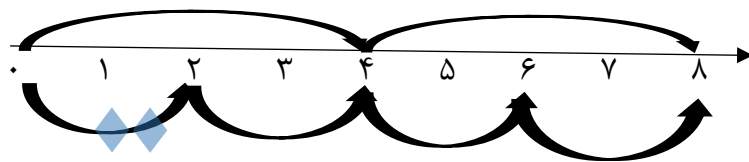
۱۴. آ: ۲      ب: ۶      ج: ۵      د: ۷

۱۵. روش جمع:  $5 + 5 + 5 + 5$

روش شکل:



۱۶.



جزوه سیپی